

**ВСЕРОССИЙСКАЯ ОЛИМПИАДА ШКОЛЬНИКОВ
ИСТОРИЯ 2025 – 2026 уч.г.
ШКОЛЬНЫЙ ЭТАП. 5 КЛАСС.**

**Задания для участников 5 класса
Инструкция по выполнению работ
Время выполнения работы – 45 минут.**

305

Максимальное количество баллов – 59 баллов

Вам предлагается выполнить 10 заданий. Внимательно прочитайте каждое задание. Если отвечаете на теоретический вопрос или решаете ситуационную задачу, обдумайте и сформулируйте конкретный ответ (ответ должен быть кратким, и его содержание следует вписать в отведённое поле; запись ведите чётко и разборчиво).

8,50. 1. Ответьте на вопросы и выполните задания.

Царь начал править в 30 г. до н.э., а умер в 12 г. н.э. Сколько лет он правил?

— 48 лет

Какой год был раньше – 75 г. до н.э. или 40 г. н.э.? На сколько?

+ 45 г. до н.э. на 29 лет

Какой год был раньше – 200 г. н.э. или 200 г. до н.э.? На сколько?

+ 400 г. н.э. на 400 лет

Укажите, к какому веку относятся даты.

532 г. до н.э. 6 век до н.э. +

20 г. н.э. 1 век н.э. +

1995 г. 20 век н.э. +

753 г. до н.э. 8 век до н.э. +

Запишите века арабскими цифрами.

III в. 3 в. +

XII в. 12 в. +

XIX в. 19 в. +

За верный ответ – 1 балл. Максимум – 10 баллов.

38. 2. Решите кроссворд «Первобытное общество» и укажите ключевое слово.

По горизонтали:

					1														
					2														
		3																	
		4	С	Ж	О	П	О	В	О	Д	С	П	В	О					
		5	Д	У	Ш	А													
		6	М	А	М	О	Ж	П	Ы										
		7	М	А	М	О	Ж	П	О	В									
		8																	
9	С	О	Б	И	Т	А	П	Е	Л	Б	С	П	В	О					

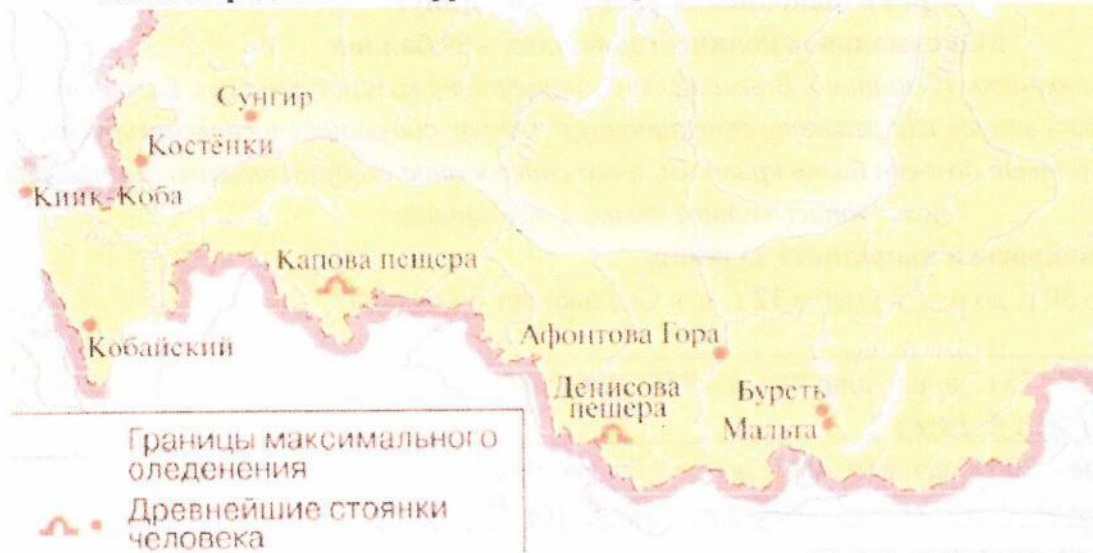
1. Материк, где по предположениям ученых, жили древнейшие люди.
2. Оружие охотников, которым можно поразить цель на большом расстоянии.
3. Первая сила природы, которой овладели первобытные люди.
4. Занятие первобытных людей, позволявшее добыть мясную пищу.
5. Сверхъестественное существо, в которое верили первобытные люди; обитает в каждом человеке.

6. Самое крупное из животных, на которое охотились древние люди.
7. Рогатый зверь, которого часто изображали первобытные художники.
8. Орудие, которым ловили рыбу.
9. Занятие, позволявшее добыть в основном растительную пищу.

Ключевое слово- _____

За верный ответ – 1 балл. Максимум – 10 баллов.


3. На карте размещены стоянки первобытного человека. Запишите, на какой стоянке нашли останки родственной группы неандертальцев. Опишите, какими они были.



Ответ: Денисова пещера, а у них был чёрный цвет глаз, кожа и волос.

За верный ответ – 3 балла. За определение стоянки – 1 балл. За описание жителей стоянки – 2 балла.

4. Внимательно рассмотрите изображения. (всего 5 баллов)




4.1. Выберите иллюстрацию, на которой изображен памятник, относящийся к так называемым «Семи чудесам света».

Ответ: 7

За верный ответ – 1 балл

4.2. Выберите иллюстрации, связанные с государством, в котором был создан приведённый объект культуры.



08. Ответ: Древний Египет

За верный ответ – 1 балл. Максимум – 3 балла.

4.3. Прочитайте текст и выберите изображение, на котором запечатлён памятник, о повреждении которого идёт речь в тексте.

00. Доподлинно неизвестно, когда, когда были нанесены «увечья» данному памятнику культуры. По одной из версий, виной всему французский император Наполеон, приказавший расстрелять памятник из пушки. Впрочем, сохранились изображения памятника с «повреждениями», созданные ещё задолго до времён Наполеона. По версии авторов фильма Астерикс и Обеликс: Миссия Клеопатра, «повреждения» нанёс Обеликс, когда неловко задел часть памятника. Впрочем, последнее – лишь художественная интерпретация одной из загадок истории.

Ответ: _____

За верный ответ – 1 балл

5. Прочтите описание древнего учреждения и выберите термин, обозначающий учреждения с такими же функциями в наши дни.

Ассирийское царство известно не только за счёт большого числа успешных военных походов, но и за внимательное отношение к культуре. В столице царства, городе Ниневии, одним из царей было создано поистине выдающееся собрание глиняных табличек, более 20 тысяч. В таблицах содержались сведения по медицине, астрономии, математике и о многом другом. Таблички хранились в строгом порядке в соответствии с темой и областью древнего знания. В греческом языке такое собрание получило название, включающее слово «вместилище».

- 05
1. Библиотека
 2. Музей
 3. Склад
 4. Древлехранилище
 5. Галерея

Ответ: _____

За верный ответ – 1 балл

6. Согласны ли вы со следующими утверждениями? Ответы укажите в таблице.

805

Утверждение	Да	Нет
Нил был главной водной артерией Египта.	✓	
Египетские письменные знаки назывались пиктограммами.	✓	

+
—

Материалом для письма в Междуречье была бумага.		✓	+
Ворота богини Иштар находились в Вавилоне.		✓	-
Ассирийские воины считались лучшими в Древнем мире.	✓		+
В Персеполе находилась библиотека глиняных табличек.		✓	-
Ассирийцы были прекрасными мореплавателями.	✓		+
Финикийцам принадлежит открытие алфавита.		✓	+
Персы основали колонии по берегам Средиземного моря.	✓		+
Иерусалим стал столицей при царе Давиде.		✓	-
Главным пророком персов был Зараатуштра.	✓		+
Буддизм является одной из мировых религий.	✓		+
Главные реки Китая – Инд и Ганг.	✓		-
В Индии был открыт порох.	✓		+
Китайцы использовали шёлковые ткани.	✓		+

За верный ответ – 1 балл. Максимум – 15 баллов.

7. Выберите из списка название памятника культуры, о котором идёт речь в тексте.

По легенде, строительство этого памятника архитектуры началось в III в. до н.э., а отдельные части этого объекта были построены в XVII в. н.э. В строительстве памятника участвовало около 1 млн человек, десятки тысяч из которых погибли при строительстве. В настоящее время данный памятник является крупнейшим из созданных руками человека. В 2023 г. памятник пострадал от рук рабочих, решивших снести часть объекта, чтобы сократить путь до работы и избавиться от необходимости обходить постройку.

1. Колизей
2. Пирамида Хеопса
3. Зимний дворец
4. Большой сфинкс
5. Великая Китайская стена
6. Терракотовая армия.

10.
20.
Ответ: 1

За верный ответ – 1 балл.

8. Ознакомьтесь с текстом и выберите верные суждения.

Когда царь подошёл к городу, вавилоняне бросились в бой, но, потерпев поражение, были оттеснены в город. Вавилонянам было уже заранее известно, что Кир теперь не будет бездействовать: они видели ведь, как персидский царь нападал на один народ за другим. Поэтому, запасшись продовольствием на очень много лет, они не обращали никакого внимания на осаду. Между тем Кир оказался в затруднительном положении, так как прошло уже много времени, а дело [осады] нисколько не продвигалось вперёд.

Наконец - другой ли кто подал совет в затруднении или же сам Кир сообразил, как ему поступать, - но сделал он вот что. Он поставил часть своего войска в том месте, где река входит в город, а другую часть - ниже по течению, к её выхода из города. Затем он приказал воинам, как только увидят, что русло стало проходимым вброд, вступать по этому руслу в город. После этого сам царь с частью войск отступил. По прибытии к озеру, расположенному выше Вавилона, персидский царь отвёл реку с помощью канала в озеро, которое собственно, было болотом, а таким образом старое русло сделалось проходимым. После того как вода в реке спала настолько, что доходила людям приблизительно до колена, персы по старому руслу вошли в Вавилон. Теперь персы внезапно напали на вавилонян. Так-то Вавилон был взят тогда в первый раз.

1. Согласно тексту, осада города продолжалась несколько лет. ✓
2. В тексте упоминается правитель, прозванный Великим. ✓ +
3. Согласно тексту, в первом сражении вавилоняне одержали победу над персами. ✗
4. В тексте упоминается город, в котором, согласно легенде, жители попытались построить огромную башню до небес. ✗ -
5. Согласно тексту, вавилоняне не ожидали нападения персов по старому руслу реки. ✗ -

6. Захват Вавилона произошёл в результате первого военного похода под командованием Кира. ✓
7. Жители Вавилона были заранее готовы к длительной осаде. ✓ +
8. В тексте упоминается столица Ассирии. ✗
9. Согласно тексту, в войске персов не было всадников. ✓
10. Одержатъ победу персам удалось благодаря смекалке царя Кира. ✗ —

Ответ: _____

За каждый верный выбор – 2 балла. Максимум за задание – 10 баллов.

9. Рассмотрите герб Ханты-Мансийского автономного округа – Югры и выполните задание.



Животных-символов Ханты-Мансийского автономного округа — Югры несколько. На гербе Югры изображена мифическая двуглавая птица «Кат ухуп вой», а самими животными, символизирующими регион, являются медведь и медведь.

Ответ: медведи

За верный ответ – 1 балл.

10. Рассмотрите плакат и дайте развёрнутый ответ на вопрос.



900 дней продолжалась блокада этого города. 8 мая 1965 года этот город получил статус города-героя, хотя впервые он был упомянут как город-герой в приказе от 1 мая 1945 года. Назовите город.

Укажите название войны, когда этот город находился в блокаде. Укажите годы войны.

Ответ: Ленинград 1942 - 1945

ВОВ - 1941 - 1945

За каждый верный ответ – 1 балл. Максимум за задание – 3 балла.

